



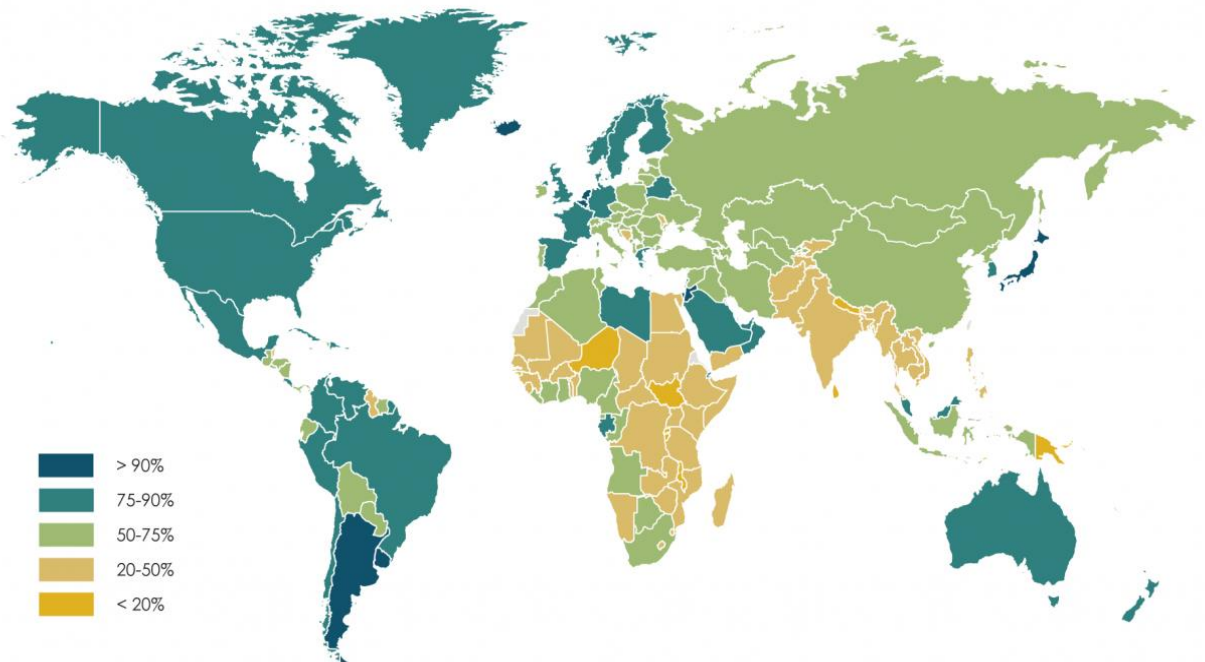
Corporación  
de Desarrollo  
Social

I. MUNICIPALIDAD DE  
PROVIDENCIA  
CORPORACIÓN DE DESARROLLO SOCIAL  
LICEO POLIVALENTE ARTURO ALESSANDRI  
PALMA  
UNIDAD TECNICO PEDAGOGICA



## ACTIVIDAD PARA EL MODULO DE HISTORIA

### La población urbana en el mundo % de la población que vive en la ciudad

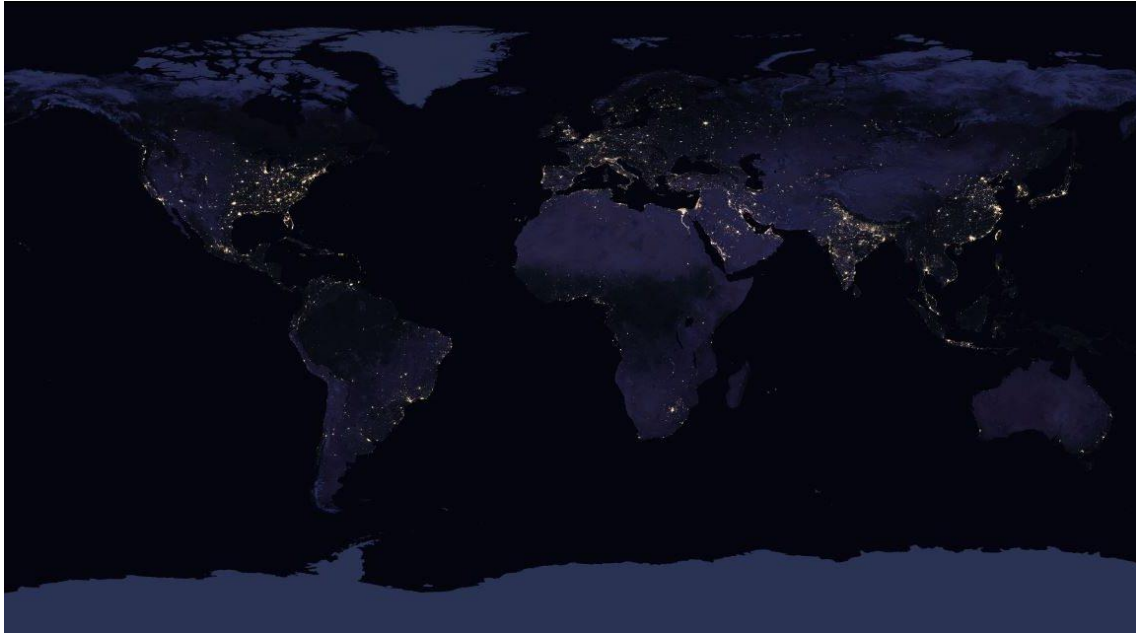


Cartografía:  
Álvaro Merino (2019)  
Fuente:  
Instituto de Estadística de la Unesco (2016)



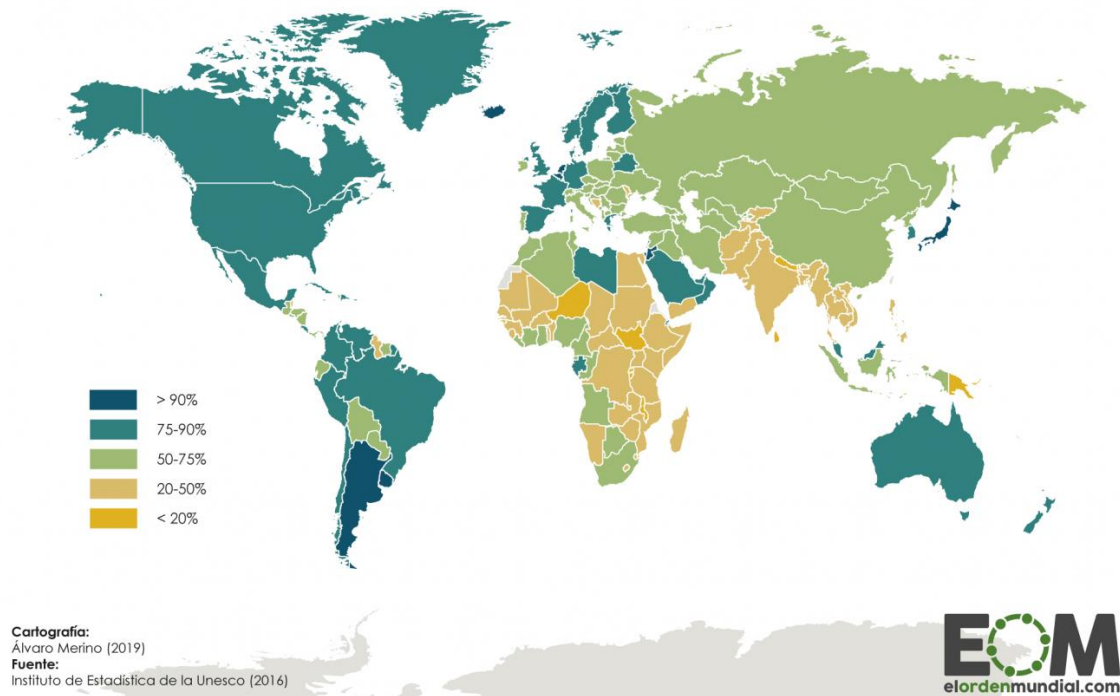
Contesta las siguientes preguntas relacionadas con el mapa de Población Urbana.

1. ¿Cuáles son los continentes que presentan una mayor y menor concentración urbana?
2. ¿Cuál es la justificación de que sean esas zonas presentan mayor población urbana? (realice su análisis tomando en cuenta factores políticos y económicos)
3. ¿Qué situación económica y política tendrán los países con menos población urbana?



## La población urbana en el mundo

% de la población que vive en la ciudad



4. ¿Qué relación puede usted determinar entre ambos mapas? Justifique su respuesta
5. Ante la pandemia del coronavirus, ¿qué cree usted que sucederá con los países de una mayor concentración de población rural?

## DEFINICIÓN DE ESPACIO RURAL

1. Es un **espacio amplio y continuo, con baja densidad de población.**
2. Es un **espacio en el que las actividades agrarias tienen un peso relativo importante.**

- Los usos artificiales del suelo tiene una importancia reducida
- Los municipios son relativamente pequeños

OCDE (Organización para la Cooperación y el Desarrollo Económico): **tienen menos de 150 habitantes por km<sup>2</sup>**

El territorio urbano, que es antónimo de rural, es reducido y puntual, como el espacio que ocupa una ciudad, y está densamente poblado

## ESPACIO URBANO

## CARACTERÍSTICAS

- Esta constituida por grupos humanos de mas de 2.500 habitantes que tengan como actividad principal el sector secundario y terciario

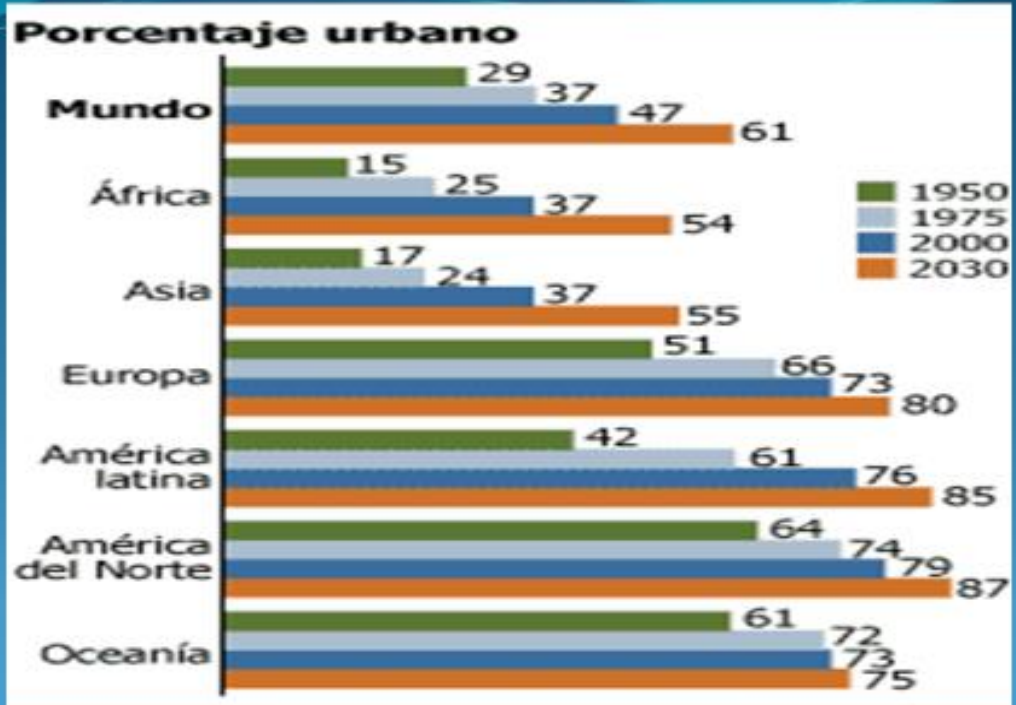
## POBLAMIENTO URBANO

- Resultado de un largo proceso de urbanización
- Etapa preindustrial
- Etapa industrial
- Etapa Postindustrial

# DIFERENCIA ENTRE LO URBANO Y LO RURAL

ESPACIO RURAL

ESPACIO URBANO



1. ¿Cuál región del mundo ha tenido el mayor incremento de población urbana entre 1950 y el 2030?
2. Analice las causas de dicho crecimiento urbano, utilizando al menos dos argumentos.

3. En el siguiente mapa del mundo, utilizando diferente colores y usando una escala de 50 a 59%, de 60 a 69%, de 70 a 79% y de 80 a 80%, deje graficada la información, para el año 2030.



50 – 59%	
60 – 69%	
70 – 70%	
80 – 89%	



## Incremento de la población urbana en Chile

CENSO	% POB. URBANA	%POB. RURAL
1865	28,6	71,4
1875	34,9	65,1
1885	41,6	58,1
1895	45,4	54,3
1907	43,1	56,6
1920	46,2	53,4
1930	49,4	50,6
1940	52,5	47,5
1952	60,2	39,8
1960	68,2	31,8
1970	75,1	24,9
1982	82,2	17,8
1992	83,5	16,5
2002	86,6	13,4

Liceo N°1205 de la Concepción, Depto. de Historia. Prof: Juan Pablo Reyes

1. Realice un gráfico lineal desde 1920 hasta el 2002 de la evolución de la población urbana y rural en Chile
2. Averigüe y justifique por qué razón la población prefiere vivir en la ciudad a lo menos utilizando dos argumentos.
3. ¿Por qué razón cree usted que numerosos jóvenes profesionales están abandonado las grandes urbes para irse a vivir a pequeñas ciudades o al campo?